

## 2024 年湖北省普通高中学业水平选择性考试

### 思想政治

本试卷共 6 页，20 题。全卷满分 100 分。考试用时 75 分钟。

★祝考试顺利★

注意事项：

1. 答题前，先将自己的姓名、准考证号、考场号、座位号填写在试卷和答题卡上，并认真核准准考证号条形码上的以上信息，将条形码粘贴在答题卡上的指定位置。
2. 请按题号顺序在答题卡上各题目的答题区域内作答，写在试卷、草稿纸和答题卡上的非答题区域均无效。
3. 选择题用 2B 铅笔在答题卡上把所选答案的标号涂黑；非选择题用黑色签字笔在答题卡上作答；字体工整，笔迹清楚。
4. 考试结束后，请将试卷和答题卡一并上交。

一、选择题：本题共 16 小题，每小题 3 分，共 48 分。在每小题给出的四个选项中，只有一项是符合题目要求的。

1. 我们即将迎来祖国 75 周年华诞。经过不懈奋斗，中国由一穷二白到全面小康，如今已踏上以中国式现代化全面推进强国建设、民族复兴的新征程。建国以来的经济建设实践证明：生产关系一定要与生产力发展要求相适应。以下对此做出正确诠释的是（ ）

- ①实行家庭联产承包责任制，促进了粮食增产农民增收
- ②鼓励非公有制经济发展，唤醒了很多人的创业梦想
- ③农村“三权分置”改革，推动了基层社会治理的完善
- ④科技创新赋能产业发展，让新能源汽车走俏世界

A. ①②                      B. ①④                      C. ②③                      D. ③④

2. 现如今买了电器，有故障需要维修时，常会遇到保修附加条件多、小病大修、乱收费等花式套路，让消费者感到买得起修不起，既“头疼”又“心疼”。为解决这一问题，需要政府（ ）

- ①加强监管，增加行业透明度
- ②反垄断，打击不正当竞争
- ③建立国有家电维修连锁企业，做好便民服务
- ④引导行业协会发挥自律作用，倡导诚信经营

A. ①③                      B. ①④                      C. ②③                      D. ②④

3. 下表反映了 2023 年我国城乡居民人均可支配收入及其来源结构情况。

统计指标	收入主	人均可支配收	按收入来源分
------	-----	--------	--------

	体	入	工资性收 入	经营净收 入	财产净收 入	转移净收 入
收入绝对量（元）	城镇居 民	51821	31321	5903	5392	9205
	农村居 民	21691	9163	7431	540	4557
收入较上年名义增 速	城镇居 民	5.1%	5.9%	5.7%	2.9%	3.6%
	农村居 民	7.7%	8.4%	6.6%	6.0%	8.4%

据此可以推断出（ ）

- ①经营净收入是农村居民最大的收入来源
- ②城乡居民人均可支配收入比值较上年有所上升
- ③经济回升向好，农民外出务工形势好转
- ④与农村居民相比，城镇居民的财产净收入占比更高

A. ①②                      B. ①③                      C. ②④                      D. ③④

4. 2023 年，中国贡献了超过一半的全球可再生能源新增装机容量。中国出口风电、光伏产品到 200 多个国家和地区，帮助他们获得清洁、可靠、用得起的能源。过去 10 年，全球风电和光伏发电项目平均每度电成本分别累计下降超过 60%和 80%，主要归功于中国创新、中国制造、中国工程。这表明（ ）

- ①风电和光伏发电相比水电和火电更具有成本优势
- ②中国为全球可再生能源发电的增长做出了巨大贡献
- ③发展中国家已广泛普及可再生能源发电产品和技术
- ④中国对全球绿色发展的贡献得益于科技和工业实力的增强

A. ①②                      B. ①③                      C. ②④                      D. ③④

5. 国之交在于民相亲，民相亲在于心相通。习近平总书记指出：“人民友好是促进世界和平与发展的基础力量，是实现合作共赢的基本前提。”民间外交作为党的事业和国家总体外交的重要组成部分，为稳定国家关系、增进人民友谊、促进务实合作、开展文明对话发挥着重要作用。民间外交（ ）

- ①是发展对外关系的主渠道，旨在增进国际交往与合作

- ②肩负着国家总体外交的首要职责，促进了中外民心相通
- ③是党的群众路线在外交领域的生动体现，具有鲜明的人民属性
- ④发挥民间先行、以民促官的优势，有利于打开外交工作新局面

A. ①②                      B. ①③                      C. ②④                      D. ③④

6. 建交 60 年来，中法关系始终紧跟时代。在中国同西方国家关系中，两国率先建立全面战略伙伴关系，开启机制性战略对话；率先开展航空、核能、第三方市场等合作。双边贸易额比建交之初增长了近 800 倍，双向投资额累计超过 260 亿美元。两国在气候变化和生物多样性领域的合作有力推进了全球气候议程。中法合作的历程表明（ ）

- ①两国通过加强沟通协作，共促世界和平发展
- ②两国经济合作领域广泛，助推经济全球化发展
- ③两国的经贸关系维护了多元稳定的国际经济新格局
- ④两国的战略联盟为解决全球性挑战发挥了引领性作用

A. ①②                      B. ①③                      C. ②④                      D. ③④

7. 某县文化馆创立“一个人的剧场”公共文化服务项目，致力于把充满爱的文化节目送给农村孤寡老人、空巢老人、残疾人和行动不便的长者，从精神层面给予特殊人群文化关怀，以特色节目传递正能量，坚定他们创造美好生活的信心。这表明公共文化服务要（ ）

- ①坚持以人民为中心，立足于服务特殊人群
- ②不断发展创新，提高人民群众的文化鉴赏水平
- ③体现政府对特殊人群的关怀，增强他们的精神动力
- ④贯彻党执政为民的理念，满足特殊人群的文化需求

A. ①②                      B. ①③                      C. ②④                      D. ③④

8. 截至 2023 年 6 月，我国网民已达 10.79 亿，未成年网民突破 1.91 亿。国务院颁布《未成年人网络保护条例》，自 2024 年 1 月 1 日起施行。这是我国出台的首部专门性的未成年人网络保护综合性立法。该条例的颁布实施（ ）

- ①为法院审理侵害未成年人的网络犯罪案件提供裁判依据
- ②体现政府在网络领域用法治方式对未成年人的特殊保护
- ③为相关部门加强网络监管提供法律依据，有利于政府依法行政
- ④规定了网民的基本权利和义务，有利于保护未成年人的合法权益

A. ①③                      B. ①④                      C. ②③                      D. ②④

9. 李四离世后留有价值 210 万元的房产（登记在夫妻名下），还有以个人名义借的购房款 10 万元未还。此时，李四的孩子李小四尚在妈妈的肚子里。李四留有一份遗嘱，要给其宠物犬旺财 1 万元。下列说法正确

的是（ ）

- ①未出生的李小四不是自然人
- ②只要遗嘱是真实的，旺财就可以继承 1 万元
- ③李四借的 10 万元不是夫妻共同债务
- ④李小四可以继承价值 50 万元的财产

A. ①③                      B. ①④                      C. ②③                      D. ②④

10. 张三喜添二孩，同事陈六带了 10 斤鸡蛋上门贺喜，张三说“来就来嘛，客气啥”，然后收下了鸡蛋，并和陈六约定等孩子满月了来喝酒。后来张三办了满月酒，但没有邀请陈六，陈六感觉很受伤。下列说法正确的是（ ）

- ①陈六送张三鸡蛋是合同关系
- ②张三请陈六喝酒是合同关系
- ③陈六有权要求张三赔礼道歉
- ④陈六无权要求张三返还鸡蛋

A. ①③                      B. ①④                      C. ②③                      D. ②④


11. 当雨滴从空中降落后，一旦遇到温度低于零摄氏度的物体，会迅速冻结成冰，这种天气现象叫做“冻雨”，冻雨落下后在物体表面形成冰层覆盖的现象叫做“雨凇”。我国南方一些地区把冻雨叫做“下冰凌”，北方地区则称为“流冰”。根据上述材料，下列选项正确的是（ ）

- A. “冻雨”与“雨凇”指的是相同的一种天气现象
- B. “下冰凌”与“流冰”的外延因地理差异而不同
- C. “冻雨”的外延与“下冰凌”的外延是属种关系
- D. “雨凇”的外延与“下冰凌”的外延是全异关系

12. 在去西天取经的路上，孙悟空、猪八戒和沙和尚有如下约定：只有孙悟空回了花果山或沙和尚回了流沙河，猪八戒才能回高老庄。下列哪种情况三人中至少有一人违背了他们之间的约定（ ）

- A. 猪八戒没有回高老庄，孙悟空回了花果山
- B. 沙和尚没有回流沙河，猪八戒没有回高老庄
- C. 猪八戒回了高老庄，孙悟空和沙和尚也去了高老庄
- D. 猪八戒回了高老庄，孙悟空回了花果山

13. 下图漫画揭示的哲理是（ ）



原作者：郑宇遥

- ①实践与认识的同一是对立中的同一
- ②认识的真理性的要在实践过程中反复检验
- ③认识都能与实践达到具体的历史的统一
- ④实践能把头脑中观念的存在变成现实的存在

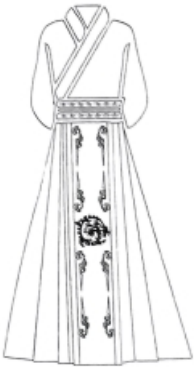
A. ①②                      B. ①④                      C. ②③                      D. ③④

14. 秸秆离田是东北利用秸秆的一种有效方式，但秸秆打包离田面积过大、量过度，容易导致黑土流失，因此需要统筹规划，因地制宜，做到科学离田，以实现经济效益与生态保护的统一。这表明（ ）

- ①土地资源利用效率的提高必须尊重自然规律      ②正确的生态价值观可以引导农业的绿色发展
- ③科学离田能够摆脱条件制约以实现综合利用      ④统筹规划可以优化整体功能并避免黑土流失

A. ①②                      B. ①④                      C. ②③                      D. ③④

15. 马面裙是中国古代一种传统服饰，因形似古代城墙防御建筑“马面”而得名。新式马面裙添加了复古提花松紧腰带，融入了现代的设计与裁剪，款式简约百搭，成为年轻人的龙年“战袍”。渐成时尚的新式马面裙（ ）



- ①反映年轻人的民族文化认同，彰显了中华民族文化主体性
- ②符合社会发展要求，满足了人们的基本文化需求
- ③拓展传统服饰文化的多样性，显示了中华文化的包容性
- ④融合现代艺术理念和传统文化元素，展现了民族文化新面貌

A. ①③                      B. ①④                      C. ②③                      D. ②④

16. 某设计师使用人工智能工具创作画作《太空歌剧院》，在数字类别竞赛中夺得头奖，这是人类第一次把

奖项颁给人工智能作品；某公司用人机联手绘画技术创作的画作《未完·待续》卖出 110 万元，这是全球首次成功拍卖人工智能山水画作。以上事例表明（ ）

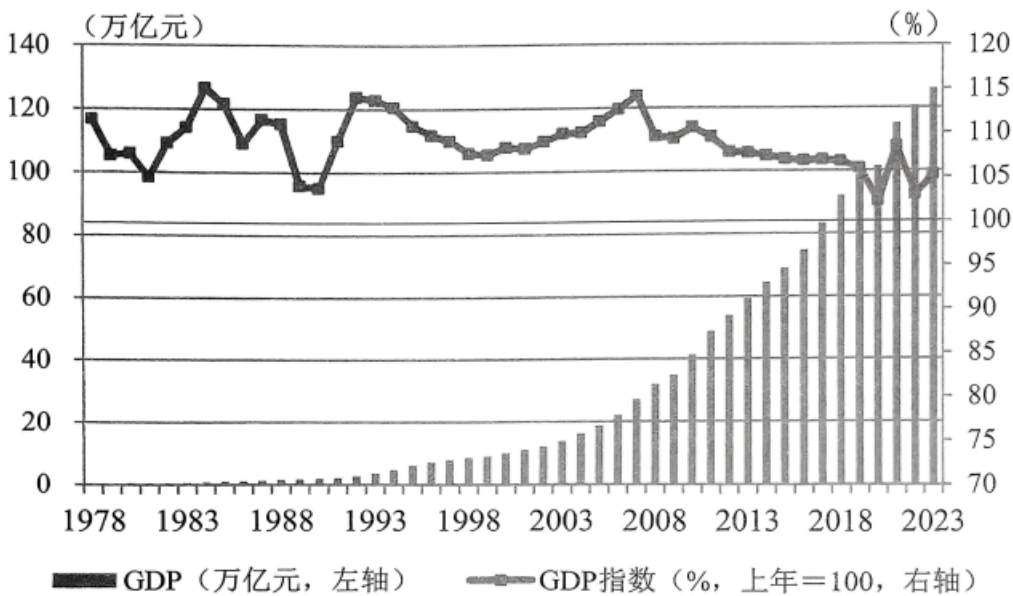
- ①人工智能与艺术结合，推动了艺术民族性与世界性的统一
- ②人们能够发挥主观能动性，实现艺术真理性与价值性的统一
- ③人们运用创新思维进行艺术创作，做到方法新与结果新的统一
- ④人工智能丰富了艺术创作的方式，坚持了艺术内容与形式的统一

A. ①②                      B. ①③                      C. ②④                      D. ③④

**二、非选择题：本题共 4 小题，共 52 分。**

17. 阅读材料，完成下列要求。

材料一 下图是中国 1978~2023 年的国内生产总值（GDP）和国内生产总值指数（GDP 指数）。



注: GDP 指数上年为 100，因此当年大于 100 表示相比上年是正增长，小于 100 表示相比上年是负增长。GDP 指数减去 100 即得到经济增长率。例如，GDP 指数 108 代表经济增长率为 8%。数据来源于国家统计局。

材料二 进入新时代，在改革开放以来创造的经济快速发展奇迹的基础上，我国国内生产总值由 2012 年的 54 万亿元跃升到 2023 年超过 126 万亿元，增速在全球主要经济体中位于前列。对外开放不断扩大，货物进出口总额连续多年居世界第一，吸引外资和对外投资均居世界前列。2013 年至 2022 年，中国与“一带一路”共建国家进出口总额累计达到 19.1 万亿美元，年均增长 6.4%，与共建国家双向投资累计超过 3800 亿美元，其中中国对外直接投资超过 2400 亿美元。国民经济的持续健康发展和高水平的对外开放展现了中国经济的底气和活力。

- (1) 解读材料一反映的经济信息。
- (2) 结合材料并运用《中国特色社会主义》《经济与社会》知识，分析中国经济充满底气和活力的原因。

(3) 结合材料并运用《当代国际政治与经济》知识, 请你为吸引外商来华投资写一段推介语。(要求: 观点明确, 语言表达清晰, 学科术语使用规范, 总字数不超过 150 字。)

18. 阅读材料, 完成下列要求。

某市创新实践形式, 提高人大代表践行全过程人民民主的能力, 让基层民主落点更细、效果更实。

该市成立多家立法联系点, 由人大代表作为立法信息员, 广泛听取意见建议, 先后就有关文明乡村、优化营商环境的多部条例开展意见征询, 收集的意见建议形成了人大立法议案, 充分发挥了立法“直通车”作用。在各街道建立居民议事平台, 推举产生包含辖区各级人大代表、村(社区)干部、居民代表在内的人员成立议事会, 定期召开会议, 共商经济社会发展事项、票选民生实项目。在人大代表担任企业法定代表人、主要负责人的企业设立 184 个营商环境监测点, 收集大量一线信息, 并及时交办、督办政府相关部门, 解决了企业生产经营难题 300 余件, 有力推动了全市营商环境不断优化。

结合材料并运用《政治与法治》知识, 分析该市人大代表在基层民主实践中是如何践行全过程人民民主的。

19. 阅读材料, 完成下列要求。

一辈子有多长, 能干多少事? 1938 年出生的“油菜院士”傅廷栋, 从“小傅”到“傅老”, 带领团队培育出 80 多个油菜品种, 有力解决了我国油菜产量和品质两大问题。

“下田有瘾”的傅廷栋和团队在 1999 年发现, 如果能在西北地区的盐碱地上复种饲料油菜, 不仅能解决北方冬天畜牧业缺少新鲜饲料的问题, 还可以做绿肥, 改良盐碱地。在前期几十年研究基础上, 团队历经数千次尝试, 最终从 3000 多份油菜资源中筛选出 40 多份耐盐碱材料, 育成了耐盐碱性好且抗病性强的油菜品种, 在西北盐碱地上成功种植油菜, 并不代表能在其他类型的盐碱地上取得成功。为了能在全国三类盐碱地上都能种上油菜, 傅廷栋带领团队走南闯北, 提取土壤样本, 制成全国盐碱地数据库, 创建油菜的盐碱地培养链, 最终选育出的一系列优质油菜品种, 能够在绝大多数盐碱地上存活并得到大面积种植, 其中, 在内蒙古、新疆等地青饲料亩产可达 5000 公斤。

回顾半个多世纪的风风雨雨, 80 多岁的傅廷栋说: “科研就得围着农民转, 多到实践中去, 才会有新的发现。”

(1) 结合材料并运用《哲学与文化》知识, 阐述傅廷栋如何在成就人生价值中笃行民族精神。

(2) 结合材料并运用“辩证思维的特征”的知识, 阐明傅廷栋团队在耐盐碱油菜的研究与推广中所体现的思维方法。

20. 阅读材料, 完成下列要求。

郝某常请朋友去家门口的 A 餐馆吃饭, 除了方便、口味不错, 还因为老板爽快, 每次买单遇到总价不是整数时, 都主动抹了零头, 但最近的一次很不愉快。郝某这次实际消费了 529 元, 买单后才发现被收了 530 元, 于是顺口问了一句: “咋还多收了 my 钱呢?” 新来的收银员不认识郝某, 斜眼问他: “你差那一块钱吗?” 郝某感觉被冒犯, 与对方争吵了起来, 要求返还一元钱并赔礼道歉。没想到老板这次也较真了,

拒绝返还，理由是过去每次的抹零加起来远不止一元钱。

运用《法律与生活》知识回答：A 餐馆老板能否多收这一元钱并说明理由；如果双方不能达成和解，郝某坚持维权，请你给他一些建议。



## 2024 年湖北省普通高中学业水平选择性考试

### 思想政治

本试卷共 6 页，20 题。全卷满分 100 分。考试用时 75 分钟。

★祝考试顺利★

注意事项：

1. 答题前，先将自己的姓名、准考证号、考场号、座位号填写在试卷和答题卡上，并认真核准准考证号条形码上的以上信息，将条形码粘贴在答题卡上的指定位置。
2. 请按题号顺序在答题卡上各题目的答题区域内作答，写在试卷、草稿纸和答题卡上的非答题区域均无效。
3. 选择题用 2B 铅笔在答题卡上把所选答案的标号涂黑；非选择题用黑色签字笔在答题卡上作答；字体工整，笔迹清楚。
4. 考试结束后，请将试卷和答题卡一并上交。

一、选择题：本题共 16 小题，每小题 3 分，共 48 分。在每小题给出的四个选项中，只有一项是符合题目要求的。

【1 题答案】

【答案】A

【2 题答案】

【答案】B

【3 题答案】

【答案】D

【4 题答案】

【答案】C

【5 题答案】

【答案】D

【6 题答案】

【答案】A

【7 题答案】

【答案】D

【8 题答案】

【答案】C

【9 题答案】

【答案】B

【10 题答案】

【答案】B

【11 题答案】

【答案】D

【12 题答案】

【答案】C

【13 题答案】

【答案】A

【14 题答案】

【答案】A

【15 题答案】

【答案】B

【16 题答案】

【答案】D

## 二、非选择题：本题共 4 小题，共 52 分。

【17 题答案】

【答案】(1) 中国 1978~2023 年的国内生产总值 (GDP) 在逐年增加。国内生产总值指数 (GDP 指数) 虽有起伏，但总体趋于稳步增长。体现了我国经济高质量发展。(原卷无答案，此答案仅供参考)

(2) ①中国实行改革开放，坚持和发展中国特色社会主义的必由之路，带来了中国的进步。把高度集中的计划经济体制改革成为社会主义市场经济体制，促进了生产力的发展，创造的经济快速发展奇迹，增速在全球主要经济体中位于前列，使国民经济的持续健康发展。②中国坚持以公有制为主体，多种所有制经济共同发展，毫不动摇的鼓励、支持和引导非公有制经济的发展，营造支持非公有制经济发展的制度环境、市场环境，采取促进非公有制经济发展的各项政策措施，形成促进非公有制经济发展的良好环境和社会氛围。对外开放不断扩大，货物贸易额连续多年居世界第一，引进来和走出去并重，吸引外资和对外投资均居世界前列。③坚持开放新发展理念，顺应我国经济深度融入世界经济的趋势，奉行互利共赢的开放战略，遵循共商共建共享原则，推进高水平对外开放，推动构建人类命运共同体。构建以国内大循环为主体、国内国际双循环相互促进的新发展格局，推进“一带一路”等高水平的对外开放。使国民经济的持续健康发展和高水平的对外开放展现了中国经济的底气和活力。(原卷无答案，此答案仅供参考)

(3) 中国顺应经济深度融入世界经济的趋势，奉行互利共赢的开放战略，遵循共商共建共享原则，推进高水平对外开放，推动构建人类命运共同体。推进“一带一路”等高水平的对外开放。中国经济快速增长，为世界各国提供了更广阔的市场、更充足的资本、更丰富的产品、更宝贵的合作机会，为全球经济的稳定

和增长提供了持续强大的推动力。(原卷无答案, 此答案仅供参考)

### 【18 题答案】

【答案】①社会主义民主是最广泛、最真实、最管用的民主, 该市提高人大代表践行全过程人民民主的能力, 支持和保证人民当家作主。

②设立多家基层立法联系点, 拓宽了公民有序参与立法途径, 人大代表行使提案权, 反映人民利益和呼声, 保障人民的参与权和表达权, 让法律体现人民的意志。

③人大代表是人民利益的代言人, 建立居民议事平台, 畅通人大代表联系群众的渠道, 保障和发展基层民主。

④人大代表行使质询权, 肩负人民重托, 努力为人民服务, 帮助所在地的政府推进工作, 维护好、实现好广大人民的根本利益。(原卷无答案, 此答案仅供参考。)

### 【19 题答案】

【答案】(1)【参考答案】①中国人民是具有伟大创造精神、伟大奋斗精神的人民, 伟大创造精神、伟大奋斗精神为油菜种业发展提供强大的精神动力, 傅廷栋和团队历经几十年研究, 育成了耐盐碱性好且抗病性强的油菜品种, 在西北盐碱地上成功种植油菜。②傅廷栋心怀爱国之情, 以解决我国油菜产量和品质问题为己任, 致力于油菜品种培育, 为国家和人民作出重大贡献, 体现了爱国主义这一民族精神的核心。③他坚持着团结统一、勤劳勇敢、自强不息的中华民族精神, 并秉持着创新精神, 不断探索新方法、新技术, 创建油菜盐碱地培养链, 选育出优质油菜品种, 推动了油菜种植的发展与创新。

(2)【参考答案】①整体性是辩证思维的重要特征, 用全面的观点看问题。傅廷栋和团队为了能在全国三类盐碱地上都能种上油菜, 傅廷栋带领团队立足实际, 积极研发, 创建油菜的盐碱地培养链, 最终选育出的一系列优质油菜品种, 能够在绝大多数盐碱地上存活并得到大面积种植。②动态性是辩证思维的又一重要特征。事物是变化发展的, 要用变化发展的观点看问题。傅廷栋和团队历经多年的研究, 进行上千次尝试, 来推动油菜种业的发展。③坚持在整体性与独立性、动态性与静态性的对立统一中把握事物。傅廷栋团队在耐盐碱油菜的研究与推广中, 立足不同盐碱地特色, 具体情况具体分析, 推动油菜种业绝大多数盐碱地上存活并得到大面积种植。

### 【20 题答案】

【答案】A 餐馆不能多收这一元钱。

根据《中华人民共和国消费者权益保护法》的规定, 经营者与消费者进行交易, 应当遵循自愿、平等、公平、诚实信用的原则。同时, 《中华人民共和国价格法》规定, 经营者不得在标价之外加价出售商品, 不得收取任何未予标明的费用。

A 餐馆行为违反法律规定, 属于构成在标价之外加价出售商品或者收取未标明的费用的违法行为。经营者在未告知消费者的情况下, 擅自使用“四舍五入”收银方式侵犯了消费者的知情权, 当然, 商家“四舍五入”

的做法中，“四舍”属于商家让利的自愿行为，但擅自“五入”的做法违背了消费者的公平交易权。因此餐馆老板并不能将过去每次的抹零与这次多收的一元钱相抵。A 餐馆“反向抹零”涉嫌违法，触碰到了消费者权益的底线，侵害了消费环境的公平公正，要据实收取每一笔交易费用，真正做到诚实守信、守法经营。且 A 餐馆收银员的言行，涉嫌侵害郝某人格尊严权。故 A 餐馆老板应该返还一元钱并向郝某赔礼道歉。

如果双方不能达成和解，郝某坚持维权，可以通过多种途径维护自身权益：可以请求消费者协会或者依法成立的其他调解组织介入调解；如仍未解决，可保留好相关票据及付款凭证，拨打 12315 投诉举报，及时向市场监管部门进行反映，捍卫自己的合法权益。如仍未解决，还可提请仲裁或向人民法院提起诉讼。